


# แบบฝึกเพื่อพัฒนาทักษะการคิดเลขเร็ว ชั้นประถมศึกษาปีที่ ๔

เล่มที่ ๒

เรื่อง

การบวกและการลบจำนวนนับ



สำนักวิชาการและมาตรฐานการศึกษา  
สำนักงานคณะกรรมการการศึกษาขั้นพื้นฐาน  
กระทรวงศึกษาธิการ

๒๕๕๒





แบบฝึกเพื่อพัฒนาทักษะการคิดเลขเร็ว  
ชั้นประถมศึกษาปีที่ ๔

เล่มที่ ๒

เรื่อง

การบวกและการลบจำนวนนับ

ชื่อ.....นามสกุล.....

ชั้นประถมศึกษาปีที่.....เลขที่.....

โรงเรียน.....

อำเภอ.....จังหวัด.....



กลุ่มพัฒนากระบวนการเรียนรู้  
สำนักวิชาการและมาตรฐานการศึกษา  
สำนักงานคณะกรรมการการศึกษาขั้นพื้นฐาน

๒๕๕๒

กลุ่มพัฒนากระบวนการเรียนรู้

สำนักวิชาการและมาตรฐานการศึกษา

สำนักงานคณะกรรมการการศึกษาขั้นพื้นฐาน

กระทรวงศึกษาธิการ

พิมพ์ครั้งที่ ๑

๒๕๕๒

จำนวนพิมพ์

๓๐,๐๐๐ เล่ม

สงวนลิขสิทธิ์

สำนักงานคณะกรรมการการศึกษาขั้นพื้นฐาน

กระทรวงศึกษาธิการ

พิมพ์ที่

โรงพิมพ์ชุมนุมสหกรณ์การเกษตรแห่งประเทศไทย จำกัด

๗๙ ถนนงามวงศ์วาน แขวงลาดยาว เขตจตุจักร กรุงเทพมหานคร ๑๐๙๐๐

โทร. ๐-๒๕๖๑-๕๕๖๗ โทรสาร ๐-๒๕๗๙-๕๑๐๑

นายโชคดี ออสุวรรณ ผู้พิมพ์ผู้โฆษณา พ.ศ. ๒๕๕๒

## คำชี้แจง

แบบฝึกเพื่อพัฒนาทักษะการคิดเลขเร็ว ชั้นประถมศึกษาปีที่ ๕ เล่มที่ ๒ เรื่อง การบวกและการลบจำนวนนับ มีวัตถุประสงค์เพื่อฝึกให้ผู้เรียนบวกและลบจำนวนนับได้อย่างถูกต้อง รวดเร็ว แบบฝึกฯ เล่มนี้มีจำนวนทั้งหมด ๕๐ ชุด ประกอบด้วย การบวกจำนวนที่มีหลายหลักสองจำนวน (ไม่มีการทด) มี ๑๐ ชุด การบวกจำนวนที่มีหลายหลักสองจำนวน (มีการทด) มี ๑๐ ชุด การลบจำนวนที่มีหลายหลักสองจำนวน (ไม่มีการกระจาย) มี ๑๐ ชุด การลบจำนวนที่มีหลายหลักสองจำนวน (มีการกระจาย) มี ๑๐ ชุด และการบวก ลบระคน มี ๑๐ ชุด ใช้เวลาชุดละ ๕ นาที

การทำแบบฝึกฯ ขอให้นักเรียนตั้งใจทำแบบฝึกฯ ในแต่ละชุดตามเวลาที่กำหนด เมื่อตรวจคำตอบเสร็จแล้ว ให้นักเรียนนำคะแนนที่ได้บันทึกลงในแบบบันทึกความก้าวหน้า ซึ่งอยู่ท้ายแบบฝึกฯ แต่ละเรื่อง





## การบวกจำนวนที่มีหลายหลักสองจำนวน (ไม่มีการทด)

### ชุดที่ ๑

เวลา.....ถึง.....วันที่...../...../.....

10

#### จงหาผลบวก

๑. 
$$\begin{array}{r} 13 \\ + 31 \\ \hline \hline \end{array}$$

๖. 
$$\begin{array}{r} 465 \\ + 24 \\ \hline \hline \end{array}$$

๒. 
$$\begin{array}{r} 46 \\ + 32 \\ \hline \hline \end{array}$$

๗. 
$$\begin{array}{r} 138 \\ + 520 \\ \hline \hline \end{array}$$

๓. 
$$\begin{array}{r} 47 \\ + 32 \\ \hline \hline \end{array}$$

๘. 
$$\begin{array}{r} 231 \\ + 756 \\ \hline \hline \end{array}$$

๔. 
$$\begin{array}{r} 401 \\ + 73 \\ \hline \hline \end{array}$$

๙. 
$$\begin{array}{r} 1528 \\ + 2451 \\ \hline \hline \end{array}$$

๕. 
$$\begin{array}{r} 407 \\ + 31 \\ \hline \hline \end{array}$$

๑๐. 
$$\begin{array}{r} 2053 \\ + 6424 \\ \hline \hline \end{array}$$



# การบวกจำนวนที่มีหลายหลักสองจำนวน (ไม่มีการทด)

## ชุดที่ ๒

10

เวลา.....ถึง.....วันที่...../...../.....

### จงหาผลบวก

๑. 
$$\begin{array}{r} 12 \\ + 73 \\ \hline \hline \end{array}$$

๖. 
$$\begin{array}{r} 543 \\ + 46 \\ \hline \hline \end{array}$$

๒. 
$$\begin{array}{r} 54 \\ + 14 \\ \hline \hline \end{array}$$

๗. 
$$\begin{array}{r} 219 \\ + 140 \\ \hline \hline \end{array}$$

๓. 
$$\begin{array}{r} 60 \\ + 21 \\ \hline \hline \end{array}$$

๘. 
$$\begin{array}{r} 321 \\ + 241 \\ \hline \hline \end{array}$$

๔. 
$$\begin{array}{r} 261 \\ + 18 \\ \hline \hline \end{array}$$

๙. 
$$\begin{array}{r} 1247 \\ + 3220 \\ \hline \hline \end{array}$$

๕. 
$$\begin{array}{r} 363 \\ + 12 \\ \hline \hline \end{array}$$

๑๐. 
$$\begin{array}{r} 2024 \\ + 4671 \\ \hline \hline \end{array}$$





## การบวกจำนวนที่มีหลายหลักสองจำนวน (ไม่มีการทด)

### ชุดที่ ๓

เวลา.....ถึง.....วันที่...../...../.....

10

#### จงหาผลบวก

๑. 
$$\begin{array}{r} 14 \\ + 60 \\ \hline \hline \end{array}$$

๖. 
$$\begin{array}{r} 624 \\ + 14 \\ \hline \hline \end{array}$$

๒. 
$$\begin{array}{r} 27 \\ + 62 \\ \hline \hline \end{array}$$

๗. 
$$\begin{array}{r} 238 \\ + 431 \\ \hline \hline \end{array}$$

๓. 
$$\begin{array}{r} 45 \\ + 50 \\ \hline \hline \end{array}$$

๘. 
$$\begin{array}{r} 415 \\ + 124 \\ \hline \hline \end{array}$$

๔. 
$$\begin{array}{r} 273 \\ + 25 \\ \hline \hline \end{array}$$

๙. 
$$\begin{array}{r} 1513 \\ + 1280 \\ \hline \hline \end{array}$$

๕. 
$$\begin{array}{r} 437 \\ + 61 \\ \hline \hline \end{array}$$

๑๐. 
$$\begin{array}{r} 1042 \\ + 2946 \\ \hline \hline \end{array}$$



# การบวกจำนวนที่มีหลายหลักสองจำนวน (ไม่มีการทด)

## ชุดที่ ๔

10

เวลา.....ถึง.....วันที่...../...../.....

### จงหาผลบวก

๑. 
$$\begin{array}{r} 15 \\ + 82 \\ \hline \hline \end{array}$$

๖. 
$$\begin{array}{r} 725 \\ + 23 \\ \hline \hline \end{array}$$

๒. 
$$\begin{array}{r} 23 \\ + 76 \\ \hline \hline \end{array}$$

๗. 
$$\begin{array}{r} 186 \\ + 203 \\ \hline \hline \end{array}$$

๓. 
$$\begin{array}{r} 30 \\ + 19 \\ \hline \hline \end{array}$$

๘. 
$$\begin{array}{r} 215 \\ + 480 \\ \hline \hline \end{array}$$

๔. 
$$\begin{array}{r} 252 \\ + 14 \\ \hline \hline \end{array}$$

๙. 
$$\begin{array}{r} 1324 \\ + 1531 \\ \hline \hline \end{array}$$

๕. 
$$\begin{array}{r} 506 \\ + 43 \\ \hline \hline \end{array}$$

๑๐. 
$$\begin{array}{r} 1617 \\ + 2012 \\ \hline \hline \end{array}$$



## การบวกจำนวนที่มีหลายหลักสองจำนวน (ไม่มีการทด)

### ชุดที่ ๕

เวลา.....ถึง.....วันที่...../...../.....

10

#### จงหาผลบวก

๑. 
$$\begin{array}{r} 16 \\ 71 \\ \hline \hline \end{array} +$$

๖. 
$$\begin{array}{r} 754 \\ 32 \\ \hline \hline \end{array} +$$

๒. 
$$\begin{array}{r} 52 \\ 24 \\ \hline \hline \end{array} +$$

๗. 
$$\begin{array}{r} 126 \\ 151 \\ \hline \hline \end{array} +$$

๓. 
$$\begin{array}{r} 64 \\ 35 \\ \hline \hline \end{array} +$$

๘. 
$$\begin{array}{r} 275 \\ 212 \\ \hline \hline \end{array} +$$

๔. 
$$\begin{array}{r} 401 \\ 73 \\ \hline \hline \end{array} +$$

๙. 
$$\begin{array}{r} 2271 \\ 1402 \\ \hline \hline \end{array} +$$

๕. 
$$\begin{array}{r} 529 \\ 70 \\ \hline \hline \end{array} +$$

๑๐. 
$$\begin{array}{r} 2348 \\ 1521 \\ \hline \hline \end{array} +$$



## การบวกจำนวนที่มีหลายหลักสองจำนวน (ไม่มีการทด)

### ชุดที่ ๖

10

เวลา.....ถึง.....วันที่...../...../.....

### จงหาผลบวก

๑.  $17 + 82$

=

๒.  $65 + 31$

=

๓.  $65 + 34$

=

๔.  $413 + 63$

=

๕.  $607 + 51$

=

๖.  $770 + 25$

=

๗.  $163 + 126$

=

๘.  $326 + 242$

=

๙.  $2335 + 1421$

=

๑๐.  $2540 + 2234$

=



## การบวกจำนวนที่มีหลายหลักสองจำนวน (ไม่มีการทด)

### ชุดที่ ๗

เวลา.....ถึง.....วันที่...../...../.....

10

#### จงหาผลบวก

๑.  $18 + 81$

=

๒.  $29 + 60$

=

๓.  $54 + 25$

=

๔.  $526 + 42$

=

๕.  $640 + 55$

=

๖.  $735 + 23$

=

๗.  $274 + 224$

=

๘.  $285 + 214$

=

๙.  $2342 + 1542$

=

๑๐.  $3325 + 2431$

=



# การบวกจำนวนที่มีหลายหลักสองจำนวน (ไม่มีการทด)

## ชุดที่ ๘

<b>10</b>

เวลา.....ถึง.....วันที่...../...../.....

### จงหาผลบวก

- ๑.  $23 + 55 =$
- ๒.  $42 + 16 =$
- ๓.  $68 + 30 =$
- ๔.  $549 + 50 =$
- ๕.  $640 + 55 =$
- ๖.  $751 + 36 =$
- ๗.  $280 + 219 =$
- ๘.  $350 + 227 =$
- ๙.  $2450 + 2329 =$
- ๑๐.  $3504 + 2133 =$



## การบวกจำนวนที่มีหลายหลักสองจำนวน (ไม่มีการทด)

### ชุดที่ ๙

เวลา.....ถึง.....วันที่...../...../.....

10

#### จงหาผลบวก

๑.  $32 + 47$

=

๒.  $47 + 22$

=

๓.  $72 + 24$

=

๔.  $600 + 65$

=

๕.  $670 + 21$

=

๖.  $762 + 34$

=

๗.  $345 + 323$

=

๘.  $382 + 216$

=

๙.  $2627 + 2052$

=

๑๐.  $3621 + 2255$

=



## การบวกจำนวนที่มีหลายหลักสองจำนวน (ไม่มีการทด)

ชุดที่ ๑๐

10

เวลา.....ถึง.....วันที่...../...../.....

### จงหาผลบวก

๑.  $50 + 38$

=

๒.  $51 + 36$

=

๓.  $87 + 11$

=

๔.  $510 + 58$

=

๕.  $635 + 34$

=

๖.  $721 + 66$

=

๗.  $372 + 315$

=

๘.  $390 + 305$

=

๙.  $3245 + 2232$

=

๑๐.  $3732 + 2125$

=







# การบวกจำนวนที่มีหลายหลักสองจำนวน (มีการทด)

## ชุดที่ ๑

10

เวลา.....ถึง.....วันที่...../...../.....

### จงหาผลบวก

๑. 
$$\begin{array}{r} 28 \\ + 57 \\ \hline \end{array}$$


๖. 
$$\begin{array}{r} 462 \\ + 91 \\ \hline \end{array}$$


๒. 
$$\begin{array}{r} 39 \\ + 32 \\ \hline \end{array}$$


๗. 
$$\begin{array}{r} 372 \\ + 236 \\ \hline \end{array}$$


๓. 
$$\begin{array}{r} 66 \\ + 38 \\ \hline \end{array}$$


๘. 
$$\begin{array}{r} 594 \\ + 326 \\ \hline \end{array}$$


๔. 
$$\begin{array}{r} 437 \\ + 92 \\ \hline \end{array}$$


๙. 
$$\begin{array}{r} 1167 \\ + 1565 \\ \hline \end{array}$$


๕. 
$$\begin{array}{r} 442 \\ + 63 \\ \hline \end{array}$$


๑๐. 
$$\begin{array}{r} 2349 \\ + 1479 \\ \hline \end{array}$$




## การบวกจำนวนที่มีหลายหลักสองจำนวน (มีการทด)

### ชุดที่ ๒

เวลา.....ถึง.....วันที่...../...../.....

10

#### จงหาผลบวก

๑. 
$$\begin{array}{r} 36 \\ + 27 \\ \hline \hline \end{array}$$

๖. 
$$\begin{array}{r} 645 \\ + 72 \\ \hline \hline \end{array}$$

๒. 
$$\begin{array}{r} 47 \\ + 36 \\ \hline \hline \end{array}$$

๗. 
$$\begin{array}{r} 339 \\ + 182 \\ \hline \hline \end{array}$$

๓. 
$$\begin{array}{r} 66 \\ + 36 \\ \hline \hline \end{array}$$

๘. 
$$\begin{array}{r} 592 \\ + 219 \\ \hline \hline \end{array}$$

๔. 
$$\begin{array}{r} 473 \\ + 44 \\ \hline \hline \end{array}$$

๙. 
$$\begin{array}{r} 3634 \\ + 2187 \\ \hline \hline \end{array}$$

๕. 
$$\begin{array}{r} 512 \\ + 91 \\ \hline \hline \end{array}$$

๑๐. 
$$\begin{array}{r} 4567 \\ + 4355 \\ \hline \hline \end{array}$$



# การบวกจำนวนที่มีหลายหลักสองจำนวน (มีการทด)

## ชุดที่ ๓

10

เวลา.....ถึง.....วันที่...../...../.....

### จงหาผลบวก

๑. 
$$\begin{array}{r} 36 \\ + 25 \\ \hline \hline \end{array}$$

๖. 
$$\begin{array}{r} 586 \\ + 43 \\ \hline \hline \end{array}$$

๒. 
$$\begin{array}{r} 39 \\ + 24 \\ \hline \hline \end{array}$$

๗. 
$$\begin{array}{r} 354 \\ + 263 \\ \hline \hline \end{array}$$

๓. 
$$\begin{array}{r} 54 \\ + 46 \\ \hline \hline \end{array}$$

๘. 
$$\begin{array}{r} 489 \\ + 222 \\ \hline \hline \end{array}$$

๔. 
$$\begin{array}{r} 133 \\ + 72 \\ \hline \hline \end{array}$$

๙. 
$$\begin{array}{r} 3378 \\ + 1254 \\ \hline \hline \end{array}$$

๕. 
$$\begin{array}{r} 432 \\ + 85 \\ \hline \hline \end{array}$$

๑๐. 
$$\begin{array}{r} 4328 \\ + 1273 \\ \hline \hline \end{array}$$



## การบวกจำนวนที่มีหลายหลักสองจำนวน (มีการทด)

### ชุดที่ ๔

เวลา.....ถึง.....วันที่...../...../.....

10

#### จงหาผลบวก

๑. 
$$\begin{array}{r} 41 \\ + 29 \\ \hline \hline \end{array}$$

๖. 
$$\begin{array}{r} 563 \\ + 54 \\ \hline \hline \end{array}$$

๒. 
$$\begin{array}{r} 64 \\ + 38 \\ \hline \hline \end{array}$$

๗. 
$$\begin{array}{r} 348 \\ + 263 \\ \hline \hline \end{array}$$

๓. 
$$\begin{array}{r} 68 \\ + 42 \\ \hline \hline \end{array}$$

๘. 
$$\begin{array}{r} 437 \\ + 272 \\ \hline \hline \end{array}$$

๔. 
$$\begin{array}{r} 353 \\ + 65 \\ \hline \hline \end{array}$$

๙. 
$$\begin{array}{r} 3374 \\ + 1156 \\ \hline \hline \end{array}$$

๕. 
$$\begin{array}{r} 437 \\ + 91 \\ \hline \hline \end{array}$$

๑๐. 
$$\begin{array}{r} 4444 \\ + 1377 \\ \hline \hline \end{array}$$



# การบวกจำนวนที่มีหลายหลักสองจำนวน (มีการทด)

## ชุดที่ ๕

10

เวลา.....ถึง.....วันที่...../...../.....

### จงหาผลบวก

๑. 
$$\begin{array}{r} 45 \\ 37 \\ \hline \end{array} +$$


๖. 
$$\begin{array}{r} 573 \\ 55 \\ \hline \end{array} +$$


๒. 
$$\begin{array}{r} 53 \\ 39 \\ \hline \end{array} +$$


๗. 
$$\begin{array}{r} 457 \\ 346 \\ \hline \end{array} +$$


๓. 
$$\begin{array}{r} 56 \\ 52 \\ \hline \end{array} +$$


๘. 
$$\begin{array}{r} 678 \\ 333 \\ \hline \end{array} +$$


๔. 
$$\begin{array}{r} 266 \\ 38 \\ \hline \end{array} +$$


๙. 
$$\begin{array}{r} 2367 \\ 1243 \\ \hline \end{array} +$$


๕. 
$$\begin{array}{r} 314 \\ 92 \\ \hline \end{array} +$$


๑๐. 
$$\begin{array}{r} 2409 \\ 1293 \\ \hline \end{array} +$$




## การบวกจำนวนที่มีหลายหลักสองจำนวน (มีการทด)

### ชุดที่ ๖

เวลา.....ถึง.....วันที่...../...../.....

10

#### จงหาผลบวก

๑. 
$$\begin{array}{r} 47 \\ 44 \\ \hline \hline \end{array} +$$

๖. 
$$\begin{array}{r} 546 \\ 93 \\ \hline \hline \end{array} +$$

๒. 
$$\begin{array}{r} 49 \\ 34 \\ \hline \hline \end{array} +$$

๗. 
$$\begin{array}{r} 194 \\ 250 \\ \hline \hline \end{array} +$$

๓. 
$$\begin{array}{r} 56 \\ 38 \\ \hline \hline \end{array} +$$

๘. 
$$\begin{array}{r} 594 \\ 326 \\ \hline \hline \end{array} +$$

๔. 
$$\begin{array}{r} 374 \\ 85 \\ \hline \hline \end{array} +$$

๙. 
$$\begin{array}{r} 2168 \\ 1542 \\ \hline \hline \end{array} +$$

๕. 
$$\begin{array}{r} 437 \\ 82 \\ \hline \hline \end{array} +$$

๑๐. 
$$\begin{array}{r} 3568 \\ 2132 \\ \hline \hline \end{array} +$$

# การบวกจำนวนที่มีหลายหลักสองจำนวน (มีการทด)

## ชุดที่ ๗

10

เวลา.....ถึง.....วันที่...../...../.....

### จงหาผลบวก

๑. 
$$\begin{array}{r} 45 \\ + 35 \\ \hline \hline \end{array}$$

๖. 
$$\begin{array}{r} 435 \\ + 74 \\ \hline \hline \end{array}$$

๒. 
$$\begin{array}{r} 53 \\ + 39 \\ \hline \hline \end{array}$$

๗. 
$$\begin{array}{r} 247 \\ + 172 \\ \hline \hline \end{array}$$

๓. 
$$\begin{array}{r} 56 \\ + 38 \\ \hline \hline \end{array}$$

๘. 
$$\begin{array}{r} 397 \\ + 165 \\ \hline \hline \end{array}$$

๔. 
$$\begin{array}{r} 253 \\ + 86 \\ \hline \hline \end{array}$$

๙. 
$$\begin{array}{r} 2563 \\ + 4247 \\ \hline \hline \end{array}$$

๕. 
$$\begin{array}{r} 285 \\ + 33 \\ \hline \hline \end{array}$$

๑๐. 
$$\begin{array}{r} 4576 \\ + 3245 \\ \hline \hline \end{array}$$





## การบวกจำนวนที่มีหลายหลักสองจำนวน (มีการทด)

### ชุดที่ ๘

เวลา.....ถึง.....วันที่...../...../.....

10

#### จงหาผลบวก

๑. 
$$\begin{array}{r} 39 \\ + 23 \\ \hline \hline \end{array}$$

๖. 
$$\begin{array}{r} 860 \\ + 41 \\ \hline \hline \end{array}$$

๒. 
$$\begin{array}{r} 42 \\ + 39 \\ \hline \hline \end{array}$$

๗. 
$$\begin{array}{r} 346 \\ + 175 \\ \hline \hline \end{array}$$

๓. 
$$\begin{array}{r} 57 \\ + 34 \\ \hline \hline \end{array}$$

๘. 
$$\begin{array}{r} 367 \\ + 252 \\ \hline \hline \end{array}$$

๔. 
$$\begin{array}{r} 236 \\ + 82 \\ \hline \hline \end{array}$$

๙. 
$$\begin{array}{r} 2385 \\ + 1456 \\ \hline \hline \end{array}$$

๕. 
$$\begin{array}{r} 352 \\ + 67 \\ \hline \hline \end{array}$$

๑๐. 
$$\begin{array}{r} 4593 \\ + 2238 \\ \hline \hline \end{array}$$



# การบวกจำนวนที่มีหลายหลักสองจำนวน (มีการทด)

## ชุดที่ ๙

10

เวลา.....ถึง.....วันที่...../...../.....

### จงหาผลบวก

๑. 
$$\begin{array}{r} 55 \\ + 39 \\ \hline \end{array}$$


๖. 
$$\begin{array}{r} 542 \\ + 67 \\ \hline \end{array}$$


๒. 
$$\begin{array}{r} 58 \\ + 45 \\ \hline \end{array}$$


๗. 
$$\begin{array}{r} 258 \\ + 144 \\ \hline \end{array}$$


๓. 
$$\begin{array}{r} 64 \\ + 38 \\ \hline \end{array}$$


๘. 
$$\begin{array}{r} 553 \\ + 353 \\ \hline \end{array}$$


๔. 
$$\begin{array}{r} 356 \\ + 51 \\ \hline \end{array}$$


๙. 
$$\begin{array}{r} 5432 \\ + 2378 \\ \hline \end{array}$$


๕. 
$$\begin{array}{r} 456 \\ + 51 \\ \hline \end{array}$$


๑๐. 
$$\begin{array}{r} 5487 \\ + 2439 \\ \hline \end{array}$$




## การบวกจำนวนที่มีหลายหลักสองจำนวน (มีการทด)

### ชุดที่ ๑๐

เวลา.....ถึง.....วันที่...../...../.....

10

### จงหาผลบวก

๑. 
$$\begin{array}{r} 42 \\ + 28 \\ \hline \hline \end{array}$$

๖. 
$$\begin{array}{r} 526 \\ + 82 \\ \hline \hline \end{array}$$

๒. 
$$\begin{array}{r} 53 \\ + 28 \\ \hline \hline \end{array}$$

๗. 
$$\begin{array}{r} 338 \\ + 274 \\ \hline \hline \end{array}$$

๓. 
$$\begin{array}{r} 54 \\ + 47 \\ \hline \hline \end{array}$$

๘. 
$$\begin{array}{r} 446 \\ + 271 \\ \hline \hline \end{array}$$

๔. 
$$\begin{array}{r} 324 \\ + 92 \\ \hline \hline \end{array}$$

๙. 
$$\begin{array}{r} 3256 \\ + 2254 \\ \hline \hline \end{array}$$

๕. 
$$\begin{array}{r} 364 \\ + 63 \\ \hline \hline \end{array}$$

๑๐. 
$$\begin{array}{r} 4069 \\ + 1533 \\ \hline \hline \end{array}$$



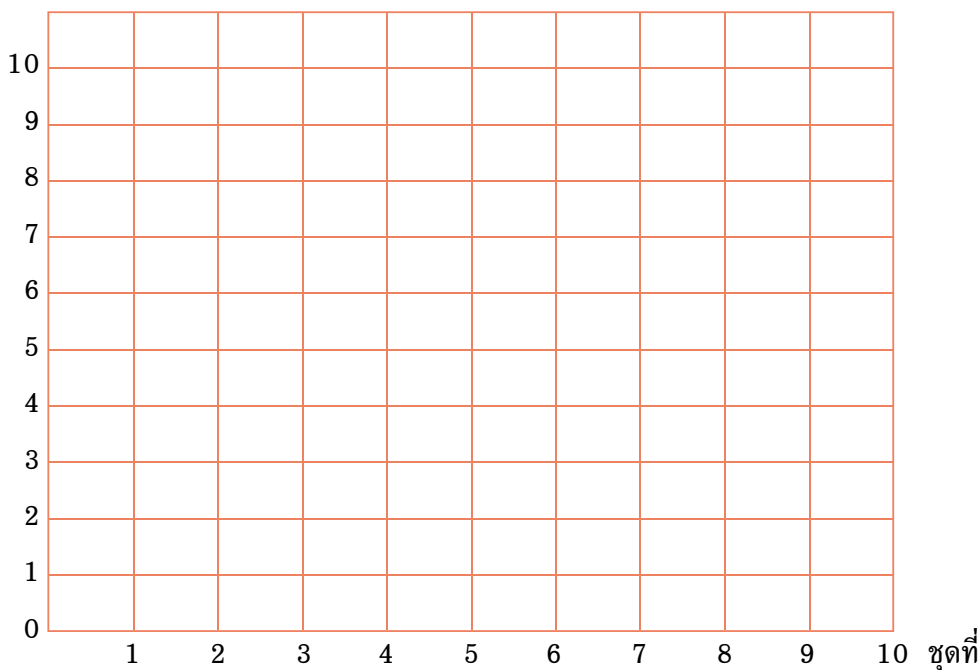
## แบบบันทึกความก้าวหน้า

แบบฝึกเพื่อพัฒนาทักษะการคิดเลขเร็ว

ชั้นประถมศึกษาปีที่ ๔ เล่มที่ ๒

เรื่อง การบวกจำนวนที่มีหลายหลักสองจำนวน (มีการทด)

จำนวนข้อที่ทำถูก (คะแนน)





## การลบจำนวนที่มีหลายหลักสองจำนวน (ไม่มีการกระจาย)

### ชุดที่ ๑

เวลา.....ถึง.....วันที่...../...../.....

10

#### จงหาผลลบ

๑. 
$$\begin{array}{r} 64 \\ - 20 \\ \hline \hline \end{array}$$

๖. 
$$\begin{array}{r} 485 \\ - 63 \\ \hline \hline \end{array}$$

๒. 
$$\begin{array}{r} 68 \\ - 35 \\ \hline \hline \end{array}$$

๗. 
$$\begin{array}{r} 234 \\ - 121 \\ \hline \hline \end{array}$$

๓. 
$$\begin{array}{r} 79 \\ - 65 \\ \hline \hline \end{array}$$

๘. 
$$\begin{array}{r} 476 \\ - 254 \\ \hline \hline \end{array}$$

๔. 
$$\begin{array}{r} 285 \\ - 45 \\ \hline \hline \end{array}$$

๙. 
$$\begin{array}{r} 4234 \\ - 1222 \\ \hline \hline \end{array}$$

๕. 
$$\begin{array}{r} 363 \\ - 51 \\ \hline \hline \end{array}$$

๑๐. 
$$\begin{array}{r} 4356 \\ - 2222 \\ \hline \hline \end{array}$$

# การลบจำนวนที่มีหลายหลักสองจำนวน (ไม่มีการกระจาย)

## ชุดที่ ๒

10

เวลา.....ถึง.....วันที่...../...../.....

### จงหาผลลบ

๑. 
$$\begin{array}{r} 59 \\ - 32 \\ \hline \hline \end{array}$$

๖. 
$$\begin{array}{r} 386 \\ - 55 \\ \hline \hline \end{array}$$

๒. 
$$\begin{array}{r} 67 \\ - 37 \\ \hline \hline \end{array}$$

๗. 
$$\begin{array}{r} 537 \\ - 336 \\ \hline \hline \end{array}$$

๓. 
$$\begin{array}{r} 67 \\ - 52 \\ \hline \hline \end{array}$$

๘. 
$$\begin{array}{r} 756 \\ - 155 \\ \hline \hline \end{array}$$

๔. 
$$\begin{array}{r} 267 \\ - 46 \\ \hline \hline \end{array}$$

๙. 
$$\begin{array}{r} 2823 \\ - 1423 \\ \hline \hline \end{array}$$

๕. 
$$\begin{array}{r} 363 \\ - 31 \\ \hline \hline \end{array}$$

๑๐. 
$$\begin{array}{r} 5234 \\ - 2214 \\ \hline \hline \end{array}$$



## การลบจำนวนที่มีหลายหลักสองจำนวน (ไม่มีการกระจาย)

### ชุดที่ ๓

เวลา.....ถึง.....วันที่...../...../.....

10

#### จงหาผลลบ

๑. 
$$\begin{array}{r} 57 \\ 43 \\ \hline \hline \end{array}$$

๖. 
$$\begin{array}{r} 654 \\ 52 \\ \hline \hline \end{array}$$

๒. 
$$\begin{array}{r} 72 \\ 61 \\ \hline \hline \end{array}$$

๗. 
$$\begin{array}{r} 375 \\ 155 \\ \hline \hline \end{array}$$

๓. 
$$\begin{array}{r} 86 \\ 42 \\ \hline \hline \end{array}$$

๘. 
$$\begin{array}{r} 456 \\ 234 \\ \hline \hline \end{array}$$

๔. 
$$\begin{array}{r} 242 \\ 30 \\ \hline \hline \end{array}$$

๙. 
$$\begin{array}{r} 4585 \\ 2354 \\ \hline \hline \end{array}$$

๕. 
$$\begin{array}{r} 285 \\ 63 \\ \hline \hline \end{array}$$

๑๐. 
$$\begin{array}{r} 5665 \\ 3333 \\ \hline \hline \end{array}$$



# การลบจำนวนที่มีหลายหลักสองจำนวน (ไม่มีการกระจาย)

## ชุดที่ ๔

10

เวลา.....ถึง.....วันที่...../...../.....

### จงหาผลลบ

๑. 
$$\begin{array}{r} 68 \\ - 44 \\ \hline \hline \end{array}$$

๖. 
$$\begin{array}{r} 567 \\ - 62 \\ \hline \hline \end{array}$$

๒. 
$$\begin{array}{r} 77 \\ - 52 \\ \hline \hline \end{array}$$

๗. 
$$\begin{array}{r} 375 \\ - 242 \\ \hline \hline \end{array}$$

๓. 
$$\begin{array}{r} 78 \\ - 37 \\ \hline \hline \end{array}$$

๘. 
$$\begin{array}{r} 386 \\ - 244 \\ \hline \hline \end{array}$$

๔. 
$$\begin{array}{r} 276 \\ - 56 \\ \hline \hline \end{array}$$

๙. 
$$\begin{array}{r} 4568 \\ - 2534 \\ \hline \hline \end{array}$$

๕. 
$$\begin{array}{r} 465 \\ - 54 \\ \hline \hline \end{array}$$

๑๐. 
$$\begin{array}{r} 5736 \\ - 3415 \\ \hline \hline \end{array}$$





## การลบจำนวนที่มีหลายหลักสองจำนวน (ไม่มีการกระจาย)

### ชุดที่ ๕

เวลา.....ถึง.....วันที่...../...../.....

10

#### จงหาผลลบ

๑. 
$$\begin{array}{r} 46 \\ - 22 \\ \hline \hline \end{array}$$

๖. 
$$\begin{array}{r} 289 \\ - 43 \\ \hline \hline \end{array}$$

๒. 
$$\begin{array}{r} 57 \\ - 40 \\ \hline \hline \end{array}$$

๗. 
$$\begin{array}{r} 436 \\ - 234 \\ \hline \hline \end{array}$$

๓. 
$$\begin{array}{r} 78 \\ - 55 \\ \hline \hline \end{array}$$

๘. 
$$\begin{array}{r} 623 \\ - 221 \\ \hline \hline \end{array}$$

๔. 
$$\begin{array}{r} 366 \\ - 34 \\ \hline \hline \end{array}$$

๙. 
$$\begin{array}{r} 2298 \\ - 1263 \\ \hline \hline \end{array}$$

๕. 
$$\begin{array}{r} 537 \\ - 34 \\ \hline \hline \end{array}$$

๑๐. 
$$\begin{array}{r} 4525 \\ - 3424 \\ \hline \hline \end{array}$$



## การลบจำนวนที่มีหลายหลักสองจำนวน (ไม่มีการกระจาย)

### ชุดที่ ๖

<b>10</b>

เวลา.....ถึง.....วันที่...../...../.....

### จงหาผลลบ

๑.  $63 - 41$

=

๒.  $85 - 62$

=

๓.  $99 - 47$

=

๔.  $226 - 25$

=

๕.  $356 - 43$

=

๖.  $544 - 42$

=

๗.  $328 - 127$

=

๘.  $548 - 336$

=

๙.  $2633 - 1532$

=

๑๐.  $4754 - 2331$

=



## การลบจำนวนที่มีหลายหลักสองจำนวน (ไม่มีการกระจาย)

### ชุดที่ ๗

เวลา.....ถึง.....วันที่...../...../.....

10

#### จงหาผลลบ

๑.  $78 - 52$

=

๒.  $82 - 41$

=

๓.  $97 - 40$

=

๔.  $353 - 31$

=

๕.  $371 - 25$

=

๖.  $477 - 55$

=

๗.  $433 - 232$

=

๘.  $455 - 222$

=

๙.  $2867 - 1556$

=

๑๐.  $5434 - 2223$

=



## การลบจำนวนที่มีหลายหลักสองจำนวน (ไม่มีการกระจาย)

### ชุดที่ ๘

เวลา.....ถึง.....วันที่...../...../.....

10

### จงหาผลลบ

๑.  $76 - 42$

=

๒.  $88 - 67$

=

๓.  $86 - 54$

=

๔.  $285 - 65$

=

๕.  $288 - 67$

=

๖.  $564 - 52$

=

๗.  $357 - 256$

=

๘.  $458 - 318$

=

๙.  $3667 - 2435$

=

๑๐.  $3425 - 1404$

=



## การลบจำนวนที่มีหลายหลักสองจำนวน (ไม่มีการกระจาย)

### ชุดที่ ๙

เวลา.....ถึง.....วันที่...../...../.....

10

#### จงหาผลลบ

๑.  $64 - 43$

=

๒.  $68 - 34$

=

๓.  $77 - 47$

=

๔.  $253 - 42$

=

๕.  $368 - 58$

=

๖.  $756 - 35$

=

๗.  $295 - 144$

=

๘.  $347 - 237$

=

๙.  $2568 - 1343$

=

๑๐.  $5456 - 3434$

=

# การลบจำนวนที่มีหลายหลักสองจำนวน (ไม่มีการกระจาย)

ชุดที่ ๑๐

10

เวลา.....ถึง.....วันที่...../...../.....

## จงหาผลลบ

- ๑.  $76 - 53 =$
- ๒.  $83 - 21 =$
- ๓.  $87 - 56 =$
- ๔.  $359 - 48 =$
- ๕.  $469 - 48 =$
- ๖.  $568 - 46 =$
- ๗.  $385 - 353 =$
- ๘.  $736 - 635 =$
- ๙.  $3275 - 2255 =$
- ๑๐.  $4825 - 3324 =$





# การลบจำนวนที่มีหลายหลักสองจำนวน (มีการกระจาย)

## ชุดที่ ๑

10

เวลา.....ถึง.....วันที่...../...../.....

### จงหาผลลบ

๑. 
$$\begin{array}{r} 52 \\ - 27 \\ \hline \hline \end{array}$$

๖. 
$$\begin{array}{r} 539 \\ - 76 \\ \hline \hline \end{array}$$

๒. 
$$\begin{array}{r} 70 \\ - 48 \\ \hline \hline \end{array}$$

๗. 
$$\begin{array}{r} 321 \\ - 164 \\ \hline \hline \end{array}$$

๓. 
$$\begin{array}{r} 74 \\ - 36 \\ \hline \hline \end{array}$$

๘. 
$$\begin{array}{r} 637 \\ - 354 \\ \hline \hline \end{array}$$

๔. 
$$\begin{array}{r} 328 \\ - 54 \\ \hline \hline \end{array}$$

๙. 
$$\begin{array}{r} 4561 \\ - 1372 \\ \hline \hline \end{array}$$

๕. 
$$\begin{array}{r} 406 \\ - 74 \\ \hline \hline \end{array}$$

๑๐. 
$$\begin{array}{r} 5431 \\ - 3278 \\ \hline \hline \end{array}$$





## การลบจำนวนที่มีหลายหลักสองจำนวน (มีการกระจาย)

### ชุดที่ ๒

เวลา.....ถึง.....วันที่...../...../.....

10

#### จงหาผลลบ

๑. 
$$\begin{array}{r} 63 \\ - 27 \\ \hline \hline \end{array}$$

๖. 
$$\begin{array}{r} 445 \\ - 74 \\ \hline \hline \end{array}$$

๒. 
$$\begin{array}{r} 76 \\ - 37 \\ \hline \hline \end{array}$$

๗. 
$$\begin{array}{r} 524 \\ - 243 \\ \hline \hline \end{array}$$

๓. 
$$\begin{array}{r} 82 \\ - 56 \\ \hline \hline \end{array}$$

๘. 
$$\begin{array}{r} 643 \\ - 357 \\ \hline \hline \end{array}$$

๔. 
$$\begin{array}{r} 345 \\ - 52 \\ \hline \hline \end{array}$$

๙. 
$$\begin{array}{r} 3641 \\ - 1362 \\ \hline \hline \end{array}$$

๕. 
$$\begin{array}{r} 437 \\ - 65 \\ \hline \hline \end{array}$$

๑๐. 
$$\begin{array}{r} 4532 \\ - 2294 \\ \hline \hline \end{array}$$



## การลบจำนวนที่มีหลายหลักสองจำนวน (มีการกระจาย)

### ชุดที่ ๓

เวลา.....ถึง.....วันที่...../...../.....

10

### จงหาผลลบ

๑. 
$$\begin{array}{r} 71 \\ - 36 \\ \hline \hline \end{array}$$

๖. 
$$\begin{array}{r} 457 \\ - 74 \\ \hline \hline \end{array}$$

๒. 
$$\begin{array}{r} 80 \\ - 45 \\ \hline \hline \end{array}$$

๗. 
$$\begin{array}{r} 432 \\ - 186 \\ \hline \hline \end{array}$$

๓. 
$$\begin{array}{r} 92 \\ - 48 \\ \hline \hline \end{array}$$

๘. 
$$\begin{array}{r} 524 \\ - 254 \\ \hline \hline \end{array}$$

๔. 
$$\begin{array}{r} 226 \\ - 35 \\ \hline \hline \end{array}$$

๙. 
$$\begin{array}{r} 4231 \\ - 2143 \\ \hline \hline \end{array}$$

๕. 
$$\begin{array}{r} 435 \\ - 42 \\ \hline \hline \end{array}$$

๑๐. 
$$\begin{array}{r} 5622 \\ - 2468 \\ \hline \hline \end{array}$$



## การลบจำนวนที่มีหลายหลักสองจำนวน (มีการกระจาย)

### ชุดที่ ๔

เวลา.....ถึง.....วันที่...../...../.....

10

#### จงหาผลลบ

๑. 
$$\begin{array}{r} 80 \\ - 59 \\ \hline \hline \end{array}$$

๖. 
$$\begin{array}{r} 547 \\ - 84 \\ \hline \hline \end{array}$$

๒. 
$$\begin{array}{r} 85 \\ - 67 \\ \hline \hline \end{array}$$

๗. 
$$\begin{array}{r} 624 \\ - 352 \\ \hline \hline \end{array}$$

๓. 
$$\begin{array}{r} 87 \\ - 48 \\ \hline \hline \end{array}$$

๘. 
$$\begin{array}{r} 732 \\ - 563 \\ \hline \hline \end{array}$$

๔. 
$$\begin{array}{r} 359 \\ - 65 \\ \hline \hline \end{array}$$

๙. 
$$\begin{array}{r} 3610 \\ - 2242 \\ \hline \hline \end{array}$$

๕. 
$$\begin{array}{r} 547 \\ - 55 \\ \hline \hline \end{array}$$

๑๐. 
$$\begin{array}{r} 4653 \\ - 2456 \\ \hline \hline \end{array}$$



# การลบจำนวนที่มีหลายหลักสองจำนวน (มีการกระจาย)

## ชุดที่ ๕

10

เวลา.....ถึง.....วันที่...../...../.....

### จงหาผลลบ

๑. 
$$\begin{array}{r} 61 \\ - 25 \\ \hline \hline \end{array}$$

๖. 
$$\begin{array}{r} 406 \\ - 74 \\ \hline \hline \end{array}$$

๒. 
$$\begin{array}{r} 62 \\ - 45 \\ \hline \hline \end{array}$$

๗. 
$$\begin{array}{r} 415 \\ - 243 \\ \hline \hline \end{array}$$

๓. 
$$\begin{array}{r} 70 \\ - 48 \\ \hline \hline \end{array}$$

๘. 
$$\begin{array}{r} 425 \\ - 248 \\ \hline \hline \end{array}$$

๔. 
$$\begin{array}{r} 282 \\ - 35 \\ \hline \hline \end{array}$$

๙. 
$$\begin{array}{r} 4541 \\ - 2364 \\ \hline \hline \end{array}$$

๕. 
$$\begin{array}{r} 314 \\ - 53 \\ \hline \hline \end{array}$$

๑๐. 
$$\begin{array}{r} 5658 \\ - 2478 \\ \hline \hline \end{array}$$



## การลบจำนวนที่มีหลายหลักสองจำนวน (มีการกระจาย)

### ชุดที่ ๖

เวลา.....ถึง.....วันที่...../...../.....

10

#### จงหาผลลบ

$$\begin{array}{r} ๑. \quad 56 \\ - 17 \\ \hline \end{array}$$

$$\begin{array}{r} ๖. \quad 529 \\ - 65 \\ \hline \end{array}$$

$$\begin{array}{r} ๒. \quad 63 \\ - 45 \\ \hline \end{array}$$

$$\begin{array}{r} ๓. \quad 604 \\ - 371 \\ \hline \end{array}$$

$$\begin{array}{r} ๓. \quad 74 \\ - 46 \\ \hline \end{array}$$

$$\begin{array}{r} ๔. \quad 723 \\ - 456 \\ \hline \end{array}$$

$$\begin{array}{r} ๔. \quad 507 \\ - 65 \\ \hline \end{array}$$

$$\begin{array}{r} ๕. \quad 4453 \\ - 2265 \\ \hline \end{array}$$

$$\begin{array}{r} ๕. \quad 513 \\ - 82 \\ \hline \end{array}$$

$$\begin{array}{r} ๑๐. \quad 5743 \\ - 2157 \\ \hline \end{array}$$



# การลบจำนวนที่มีหลายหลักสองจำนวน (มีการกระจาย)

## ชุดที่ ๗

10

เวลา.....ถึง.....วันที่...../...../.....

### จงหาผลลบ

๑. 
$$\begin{array}{r} 62 \\ - 45 \\ \hline \hline \end{array}$$

๖. 
$$\begin{array}{r} 537 \\ - 65 \\ \hline \hline \end{array}$$

๒. 
$$\begin{array}{r} 75 \\ - 49 \\ \hline \hline \end{array}$$

๗. 
$$\begin{array}{r} 516 \\ - 254 \\ \hline \hline \end{array}$$

๓. 
$$\begin{array}{r} 81 \\ - 45 \\ \hline \hline \end{array}$$

๘. 
$$\begin{array}{r} 542 \\ - 264 \\ \hline \hline \end{array}$$

๔. 
$$\begin{array}{r} 319 \\ - 47 \\ \hline \hline \end{array}$$

๙. 
$$\begin{array}{r} 4232 \\ - 2147 \\ \hline \hline \end{array}$$

๕. 
$$\begin{array}{r} 427 \\ - 54 \\ \hline \hline \end{array}$$

๑๐. 
$$\begin{array}{r} 5435 \\ - 3276 \\ \hline \hline \end{array}$$



## การลบจำนวนที่มีหลายหลักสองจำนวน (มีการกระจาย)

### ชุดที่ ๘

เวลา.....ถึง.....วันที่...../...../.....

10

#### จงหาผลลบ

๑. 
$$\begin{array}{r} 77 \\ - 58 \\ \hline \hline \end{array}$$

๖. 
$$\begin{array}{r} 647 \\ - 53 \\ \hline \hline \end{array}$$

๒. 
$$\begin{array}{r} 85 \\ - 57 \\ \hline \hline \end{array}$$

๗. 
$$\begin{array}{r} 523 \\ - 248 \\ \hline \hline \end{array}$$

๓. 
$$\begin{array}{r} 86 \\ - 59 \\ \hline \hline \end{array}$$

๘. 
$$\begin{array}{r} 615 \\ - 241 \\ \hline \hline \end{array}$$

๔. 
$$\begin{array}{r} 438 \\ - 63 \\ \hline \hline \end{array}$$

๙. 
$$\begin{array}{r} 4615 \\ - 1456 \\ \hline \hline \end{array}$$

๕. 
$$\begin{array}{r} 564 \\ - 82 \\ \hline \hline \end{array}$$

๑๐. 
$$\begin{array}{r} 6835 \\ - 3746 \\ \hline \hline \end{array}$$

# การลบจำนวนที่มีหลายหลักสองจำนวน (มีการกระจาย)

## ชุดที่ ๙

10

เวลา.....ถึง.....วันที่...../...../.....

### จงหาผลลบ

๑. 
$$\begin{array}{r} 68 \\ - 49 \\ \hline \hline \end{array}$$

๖. 
$$\begin{array}{r} 624 \\ - 43 \\ \hline \hline \end{array}$$

๒. 
$$\begin{array}{r} 73 \\ - 34 \\ \hline \hline \end{array}$$

๗. 
$$\begin{array}{r} 614 \\ - 343 \\ \hline \hline \end{array}$$

๓. 
$$\begin{array}{r} 84 \\ - 56 \\ \hline \hline \end{array}$$

๘. 
$$\begin{array}{r} 621 \\ - 347 \\ \hline \hline \end{array}$$

๔. 
$$\begin{array}{r} 318 \\ - 42 \\ \hline \hline \end{array}$$

๙. 
$$\begin{array}{r} 5625 \\ - 3458 \\ \hline \hline \end{array}$$

๕. 
$$\begin{array}{r} 527 \\ - 85 \\ \hline \hline \end{array}$$

๑๐. 
$$\begin{array}{r} 6433 \\ - 2288 \\ \hline \hline \end{array}$$





## การลบจำนวนที่มีหลายหลักสองจำนวน (มีการกระจาย)

### ชุดที่ ๑๐

เวลา.....ถึง.....วันที่...../...../.....

10

### จงหาผลลบ

๑. 
$$\begin{array}{r} 56 \\ 28 \\ \hline \hline \end{array}$$

๖. 
$$\begin{array}{r} 506 \\ 74 \\ \hline \hline \end{array}$$

๒. 
$$\begin{array}{r} 63 \\ 25 \\ \hline \hline \end{array}$$

๗. 
$$\begin{array}{r} 415 \\ 243 \\ \hline \hline \end{array}$$

๓. 
$$\begin{array}{r} 81 \\ 46 \\ \hline \hline \end{array}$$

๘. 
$$\begin{array}{r} 564 \\ 288 \\ \hline \hline \end{array}$$

๔. 
$$\begin{array}{r} 375 \\ 83 \\ \hline \hline \end{array}$$

๙. 
$$\begin{array}{r} 5425 \\ 3268 \\ \hline \hline \end{array}$$

๕. 
$$\begin{array}{r} 427 \\ 54 \\ \hline \hline \end{array}$$

๑๐. 
$$\begin{array}{r} 5945 \\ 2768 \\ \hline \hline \end{array}$$



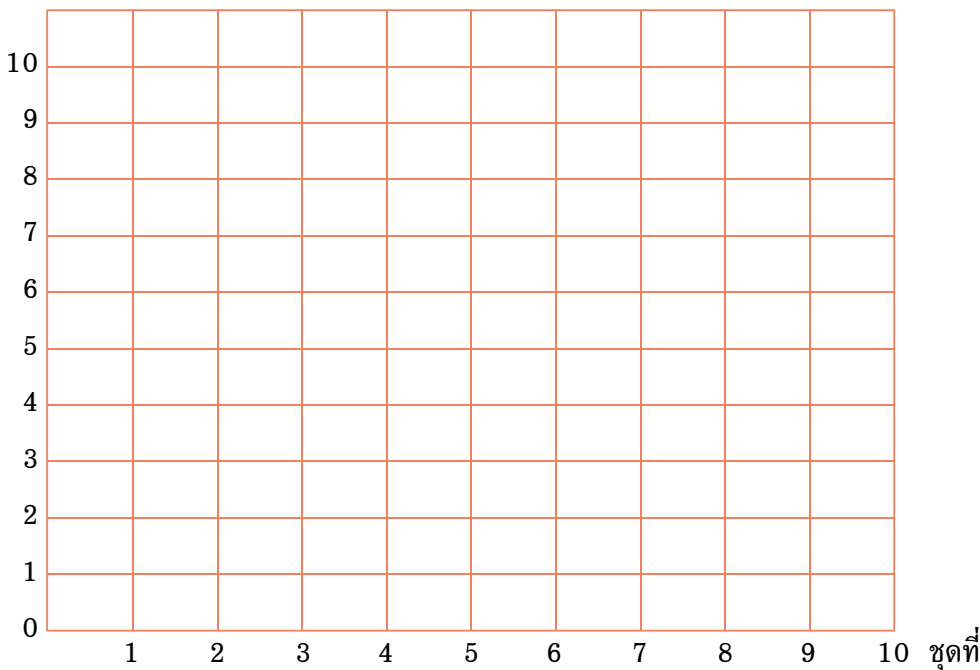
## แบบบันทึกความก้าวหน้า

แบบฝึกเพื่อพัฒนาทักษะการคิดเลขเร็ว

ชั้นประถมศึกษาปีที่ ๔ เล่มที่ ๒

เรื่อง การลบจำนวนที่มีหลายหลักสองจำนวน (มีการกระจาย)

จำนวนข้อที่ทำถูก (คะแนน)





## การบวก ลบระคน

## ชุดที่ ๑

เวลา.....ถึง.....วันที่...../...../.....

10

## จงหาผลลัพธ์

๑.  $15 + 25 + 28 =$

๒.  $26 + 34 + 32 =$

๓.  $42 + 28 + 22 =$

๔.  $(15 + 25) - 30 =$

๕.  $(25 + 25) - 25 =$

๖.  $50 - (25 + 15) =$

๗.  $68 - (34 + 26) =$

๘.  $20 + (30 - 14) =$

๙.  $(75 - 35) - 30 =$

๑๐.  $96 - (80 - 24) =$



## การบวก ลบระคน

### ชุดที่ ๒

เวลา.....ถึง.....วันที่...../...../.....

10

### จงหาผลลัพธ์

๑.  $20 + 30 + 32 =$

๒.  $38 + 32 + 47 =$

๓.  $46 + 35 + 45 =$

๔.  $(27 + 33) - 54 =$

๕.  $(42 + 38) - 60 =$

๖.  $62 - (24 + 26) =$

๗.  $70 - (31 + 29) =$

๘.  $60 + (70 - 27) =$

๙.  $(84 - 54) - 20 =$

๑๐.  $87 - (60 - 33) =$



## การบวก ลบระคน

## ชุดที่ ๓

เวลา.....ถึง.....วันที่...../...../.....

10

## จงหาผลลัพธ์

๑.  $32 + 48 + 19 =$

๒.  $45 + 15 + 28 =$

๓.  $49 + 20 + 30 =$

๔.  $(38 + 42) - 20 =$

๕.  $(46 + 24) - 37 =$

๖.  $50 - (11 + 38) =$

๗.  $76 - (22 + 38) =$

๘.  $70 + (80 - 48) =$

๙.  $(76 - 36) - 30 =$

๑๐.  $95 - (50 - 25) =$



## การบวก ลบระคน

### ชุดที่ ๔

เวลา.....ถึง.....วันที่...../...../.....

10

### จงหาผลลัพธ์

๑.  $36 + 43 + 27 =$

๒.  $54 + 26 + 24 =$

๓.  $72 + 18 + 12 =$

๔.  $(24 + 36) - 30 =$

๕.  $(38 + 32) - 47 =$

๖.  $60 - (32 + 18) =$

๗.  $87 - (42 + 28) =$

๘.  $80 + (40 - 32) =$

๙.  $(87 - 27) - 40 =$

๑๐.  $87 - (60 - 33) =$



## การบวก ลบระคน

## ชุดที่ ๕

เวลา.....ถึง.....วันที่...../...../.....

10

## จงหาผลลัพธ์

๑.  $37 + 22 + 38 =$

๒.  $42 + 28 + 41 =$

๓.  $46 + 34 + 28 =$

๔.  $(43 + 37) - 20 =$

๕.  $(54 + 35) - 45 =$

๖.  $70 - (45 + 15) =$

๗.  $83 - (39 + 21) =$

๘.  $60 + (70 - 49) =$

๙.  $(64 - 24) - 20 =$

๑๐.  $89 - (70 - 31) =$



## การบวก ลบระคน

### ชุดที่ ๖

เวลา.....ถึง.....วันที่...../...../.....

10

### จงหาผลลัพธ์

๑.  $35 + 25 + 34 =$

๒.  $39 + 31 + 29 =$

๓.  $49 + 34 + 26 =$

๔.  $(32 + 28) - 50 =$

๕.  $(52 + 28) - 38 =$

๖.  $78 - (31 + 29) =$

๗.  $80 - (47 + 23) =$

๘.  $90 + (60 - 52) =$

๙.  $(58 - 28) - 20 =$

๑๐.  $95 - (70 - 45) =$





## การบวก ลบระคน

## ชุดที่ ๗

เวลา.....ถึง.....วันที่...../...../.....

10

## จงหาผลลัพธ์

๑.  $31 + 29 + 23 =$

๒.  $46 + 24 + 38 =$

๓.  $54 + 35 + 25 =$

๔.  $(25 + 75) - 55 =$

๕.  $(33 + 27) - 40 =$

๖.  $50 - (25 + 15) =$

๗.  $89 - (41 + 29) =$

๘.  $90 + (50 - 37) =$

๙.  $(75 - 25) - 30 =$

๑๐.  $92 - (80 - 38) =$



## การบวก ลบระคน

### ชุดที่ ๘

เวลา.....ถึง.....วันที่...../...../.....

10

### จงหาผลลัพธ์

๑.  $37 + 33 + 71 =$

๒.  $61 + 29 + 53 =$

๓.  $68 + 48 + 22 =$

๔.  $(58 + 32) - 60 =$

๕.  $(65 + 35) - 64 =$

๖.  $90 - (47 + 33) =$

๗.  $93 - (25 + 45) =$

๘.  $90 + (80 - 40) =$

๙.  $(80 - 32) - 48 =$

๑๐.  $70 - (88 - 28) =$



## การบวก ลบระคน

## ชุดที่ ๙

เวลา.....ถึง.....วันที่...../...../.....

10

## จงหาผลลัพธ์

๑.  $67 + 33 + 57 =$

๒.  $69 + 55 + 35 =$

๓.  $82 + 48 + 25 =$

๔.  $(38 + 62) - 50 =$

๕.  $(63 + 37) - 80 =$

๖.  $80 - (36 + 24) =$

๗.  $95 - (37 + 33) =$

๘.  $80 + (90 - 50) =$

๙.  $(92 - 42) - 30 =$

๑๐.  $98 - (70 - 32) =$



## การบวก ลบระคน

### ชุดที่ ๑๐

เวลา.....ถึง.....วันที่...../...../.....

10

### จงหาผลลัพธ์

๑.  $71 + 29 + 62 =$

๒.  $75 + 35 + 33 =$

๓.  $78 + 62 + 28 =$

๔.  $(58 + 42) - 70 =$

๕.  $(74 + 36) - 40 =$

๖.  $70 - (37 + 23) =$

๗.  $98 - (62 + 28) =$

๘.  $60 + (80 - 35) =$

๙.  $(99 - 49) - 40 =$

๑๐.  $99 - (80 - 51) =$





## คณะทำงาน

### ที่ปรึกษา

๑. คุณหญิงกษมา วรวรรณ ณ อยุธยา  
เลขาธิการคณะกรรมการการศึกษาขั้นพื้นฐาน
๒. นายสมเกียรติ ชอบผล  
รองเลขาธิการคณะกรรมการการศึกษาขั้นพื้นฐาน
๓. นายวินัย รอดจ่าย  
รองเลขาธิการคณะกรรมการการศึกษาขั้นพื้นฐาน

### ผู้ทรงคุณวุฒิ

๑. นายสุชาติ วงศ์สุวรรณ  
ที่ปรึกษาด้านพัฒนากระบวนการเรียนรู้
๒. นางสาววันทยา วงศ์ศิลปภิรมย์  
ที่ปรึกษาด้านมาตรฐานการศึกษา
๓. นางเบญจลักษณ์ น้ำฟ้า  
ผู้อำนวยการสำนักวิชาการและมาตรฐานการศึกษา
๔. นางสาววีณา อัครธรรม  
ผู้เชี่ยวชาญด้านพัฒนานวัตกรรมการเรียนรู้
๕. รศ.ดร.จิราภรณ์ ศิริทวี  
ข้าราชการบำนาญ  
โรงเรียนสาธิตแห่งมหาวิทยาลัยเกษตรศาสตร์  
ศูนย์วิจัยและพัฒนาการศึกษา



๖. รศ.ประพนธ์ จำเริญญ  
โรงเรียนสาธิตมหาวิทยาลัยศรีนครินทรวิโรฒ ประสานมิตร  
(ฝ่ายประถม)
๗. รศ.พัชรี วรจรัสรังสี  
โรงเรียนสาธิตจุฬาลงกรณ์มหาวิทยาลัย ฝ่ายประถม
๘. นายหฤษฎ์พันธ์ุ ปรีชพันธ์ุ  
บริษัท คุมอง (ไทยแลนด์) จำกัด

### ผู้รับผิดชอบโครงการ

กลุ่มพัฒนากระบวนการเรียนรู้ สำนักวิชาการและมาตรฐานการศึกษา

๑. นางสาวกัญนิภา พรหมมณีพิทักษ์ หัวหน้ากลุ่มพัฒนากระบวนการเรียนรู้
๒. นางสาวศรินทร เศรษฐการุณย์ นักวิชาการศึกษา
๓. นางสาววรรณ ขุนศรี นักวิชาการศึกษา
๔. นางผาณิต ทวีศักดิ์ นักวิชาการศึกษา
๕. นางบุษริน ประเสริฐรัตน์ นักวิชาการศึกษา
๖. นางสาวเปรมวดี ศรีธนพล นักวิชาการศึกษา
๗. นางสาวภัทรา สุวรรณบัตร นักวิชาการศึกษา
๘. นางสาวจรรยาตรี แจบไธสง นักวิชาการศึกษา



## ผู้เขียน

๑. นายเฉลิมพล เสชะพันธ์  
ศึกษานิเทศก์  
สำนักงานเขตพื้นที่การศึกษาชุมพร เขต ๑
๒. นางสาวสุภาพร ธนะแสง  
ครูโรงเรียนอนุบาลหนองขาหย่าง  
สำนักงานเขตพื้นที่การศึกษาอุทัยธานี
๓. นางจรรยา เสรีจกิจ  
ครูโรงเรียนสุพรรณภูมิ  
สำนักงานเขตพื้นที่การศึกษาสุพรรณบุรี เขต ๑
๔. นางบุญชู สุเมธ  
ครูโรงเรียนบ้านยา  
สำนักงานเขตพื้นที่การศึกษาอุดรธานี เขต ๓
๕. นางสมพร วงศ์กาฬสินธุ์  
ครูโรงเรียนอนุบาลสกลนคร  
สำนักงานเขตพื้นที่การศึกษาสกลนคร เขต ๑
๖. นางสมพร มงคลพร  
ครูโรงเรียนวัดชัยชนะสงคราม  
สำนักงานเขตพื้นที่การศึกษากรุงเทพมหานคร เขต ๑
๗. นายมงคล วรภัสสร  
ครูโรงเรียนวัดชัยชนะสงคราม  
สำนักงานเขตพื้นที่การศึกษากรุงเทพมหานคร เขต ๑





## ผู้ปรับปรุงแบบฝึก

๑. นางสุกัญญา จันทุม  
ครูโรงเรียนบ้านเข็กน้อย  
สำนักงานเขตพื้นที่การศึกษาเพชรบูรณ์ เขต ๒
๒. นางประภาพร บุญอ่อน  
ครูโรงเรียนบ้านเข็กน้อย  
สำนักงานเขตพื้นที่การศึกษาเพชรบูรณ์ เขต ๒
๓. นางเกษร นวลดอกไม้  
ครูโรงเรียนอนุบาลทัพทัน  
สำนักงานเขตพื้นที่การศึกษาอุทัยธานี เขต ๑
๔. นางเทพี เขียนสาร  
ครูโรงเรียนบ้านห้วยเป้ง  
สำนักงานเขตพื้นที่การศึกษาอุทัยธานี เขต ๒



### ผู้บรรณาธิการ และจัดทำฉบับสมบูรณ์

๑. นางสาวกัญญิกา พรหมณ์พิทักษ์  
สำนักวิชาการและมาตรฐานการศึกษา
๒. นางสาวจรรยาศรี แจบไธสง  
สำนักวิชาการและมาตรฐานการศึกษา

### ผู้จัดพิมพ์ต้นฉบับ

นางสาวจรรยาศรี แจบไธสง  
สำนักวิชาการและมาตรฐานการศึกษา



